

Διάθλαση, οπτικά φράγματα

Σητεία, 06/12/2022

0. Ο δείκτης διάθλασης n ενός οπτικού μέσου ορίζεται ως ο λόγος της ταχύτητας του φωτός c στο μέσο προς τον λόγο της ταχύτητας c_0 στο κενό,

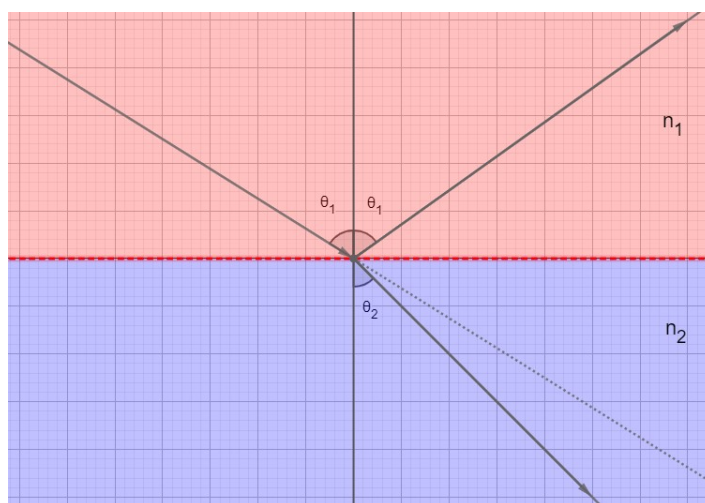
$$n = \frac{c_0}{c}$$

Επειδή η συχνότητα του φωτός δεν αλλάζει θα έχουμε,

$$n = \frac{\lambda_0}{\lambda}$$

όπου λ_0 είναι το μήκος κύματος του φωτός στο κενό και λ το μήκος κύματος στο οπτικό μέσο.

Όταν το φως συναντήσει την διαχωριστική επιφάνεια δύο μέσων ένας «μέρος» του ανακλάται και ένα «μέρος» διαθλάται,

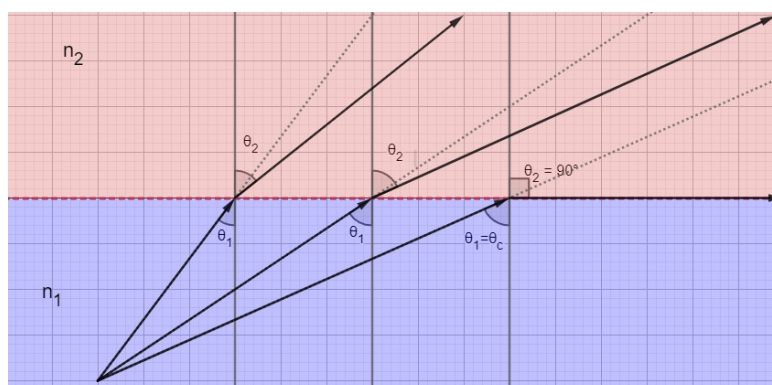


Ο νόμος της διάθλασης περιγράφεται από την εξίσωση,

$$n_1 \cdot \eta\mu\theta_1 = n_2 \cdot \eta\mu\theta_2$$

που είναι επίσης γνωστή και ως νόμος του Snell.

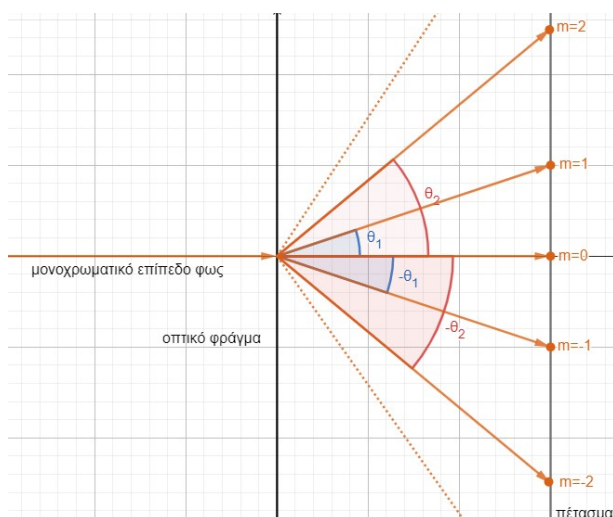
Όταν μία ακτίνα φωτός «ταξιδεύει» από το οπτικά πυκνό προς το οπτικά αραιό μέσο ($n_1 > n_2$), τότε μπορεί να έχουμε ολική ανάκλαση και να μην υπάρχει διαθλώμενη ακτίνα,



Η κρίσιμη γωνία θ_c πάνω από την οποία έχουμε ολική ανάκλαση δίνεται από τον τύπο,

$$\theta_c = \frac{n_1}{n_2}$$

Το αποτέλεσμα της συμβολής που προκύπτει από την πρόσπτωση επίπεδου μονοχρωματικού φωτός κάθετα σε ένα οπτικό φράγμα είναι φωτεινές και σκοτεινές περιοχές στο πέτασμα,



και η εξίσωση που δίνει τις γωνίες στις οποίες παρατηρούμε τα μέγιστα είναι,

$$d \cdot \eta\mu\theta = m \cdot \lambda$$

Συνεπώς το πλήθος των θετικών τάξεων συμβολής θα είναι ο μεγαλύτερος θετικός ακέραιος m για τον οποίο ισχύει

$$\frac{m \cdot \lambda}{d} < 1$$

ή αν θέλετε το πρώτο ψηφίο της διαίρεσης d/λ .

1. Για τον προσδιορισμό της περιεκτικότητας ενός υδατικού διαλύματος σε ζάχαρη μπορούμε να μετρήσουμε τον δείκτη διάθλασης του n_δ . Για τον λόγο αυτό χρησιμοποιούμε μία μονοχρωματική δέσμη φωτός μήκους κύματος $638,0\text{nm}$ η οποία προσπίπτει στην διαχωριστική επιφάνεια αέρα δείγματος υπό γωνία $53,0^\circ$ ως προς την κατακόρυφο. Η γωνία διάθλασης που μετράμε είναι $38,0^\circ$.

A. Να υπολογιστεί ο δείκτης διάθλασης του διαλύματος.

B. Να υπολογιστεί το μήκος κύματος λ της δέσμης μέσα στο διάλυμα.

Δίνεται ο δείκτης διάθλασης του αέρα $n = 1,00$.

Απάντηση.

A. Από τον νόμο της διάθλασης θα έχουμε

$$n \cdot \eta\mu 53^\circ = n_\delta \cdot \eta\mu 38^\circ$$

και λύνοντας ως προς n_δ παίρνουμε

$$\begin{aligned}
 n_{\delta} &= \frac{n \cdot \eta_{\mu 53^{\circ}}}{\eta_{\mu 38^{\circ}}} \\
 &= 1,2971 \\
 &= 1,3
 \end{aligned}$$

B. Γνωρίζουμε ότι,

$$n_{\delta} = \frac{\lambda_0}{\lambda}$$

και λύνοντας ως προς λ_0 παίρνουμε,

$$\begin{aligned}
 \lambda &= \frac{\lambda_0}{n_{\delta}} \\
 &= 491,9\text{nm}
 \end{aligned}$$

2. Μονοχρωματική ακτίνα διαδίδεται στο νερό και προσπίπτει στην διαχωριστική επιφάνεια νερού αέρα υπό γωνία 37° ως προς την κατακόρυφη.

A. Να υπολογιστεί η κρίσιμη γωνία θ_c .

B. Να υπολογιστεί η γωνία διάθλασης θ_{δ} .

Δίνεται ο δείκτης διάθλασης του νερού $n_v = 1,333$ και του αέρα $n = 1$.

Απάντηση.

A. Η κρίσιμη γωνία θ_c μπορεί να βρεθεί από την σχέση,

$$\begin{aligned}
 \eta_{\mu \theta_c} &= \frac{n}{n_v} \\
 &= 0,75018
 \end{aligned}$$

και με την βοήθεια υπολογιστή βρίσκουμε,

$$\begin{aligned}
 \theta_c &= \sin^{-1} 0,75018 \\
 &= 48,6^{\circ}
 \end{aligned}$$

B. Εφόσον $\theta < \theta_c$ θα έχουμε διαθλώμενη ακτίνα και από τον νόμο της διάθλασης,

$$n_v \cdot \eta_{\mu 37^{\circ}} = n \cdot \eta_{\mu \theta_{\delta}}$$

παίρνουμε την εξίσωση,

$$\begin{aligned}
 \eta_{\mu \theta_{\delta}} &= n_v \cdot \eta_{\mu 37^{\circ}} \\
 &= 0,8022
 \end{aligned}$$

για την οποία ο υπολογιστής μας δίνει,

$$\begin{aligned}
 \theta_{\delta} &= \sin^{-1} 0,8022 \\
 &= 53,3^{\circ}
 \end{aligned}$$

3. Έχουμε ένα οπτικό φράγμα που δεν γνωρίζουμε την σταθερά του d . Για να τα την βρούμε σημαδεύουμε με ένα Laser μήκους κύματος $\lambda = 632,8\text{nm}$ κάθετα στο φράγμα και μετράμε τις γωνίες για τις τρεις πρώτες μη μηδενικές τάξεις περίθλασης. Βρίσκουμε λοιπόν $\theta_1 = 18,45^{\circ}$, $\theta_2 = 39,26^{\circ}$ και $\theta_3 = 71,66^{\circ}$.

A. Να υπολογιστεί η σταθερά d του φράγματος.

B. Να υπολογιστούν οι γραμμές/mm του φράγματος.

Απάντηση.

A. Από την εξίσωση του φράγματος για την τάξη περίθλασης $m = 1$

$$\begin{aligned}d \cdot \eta\mu 18,5^\circ &= 1 \cdot 632,8 \Rightarrow \\d &= \frac{632,8}{\eta\mu 18,5^\circ} \Rightarrow \\d &= 1999,51\text{nm}\end{aligned}$$

Ομοίως για $m = 2$,

$$\begin{aligned}d &= \frac{2 \cdot 632,8}{\eta\mu 39,26^\circ} \\&= 1999,87\text{nm}\end{aligned}$$

και τέλος για $m = 3$,

$$\begin{aligned}d &= \frac{3 \cdot 632,8}{\eta\mu 71,66^\circ} \\&= 1999,98\text{nm}\end{aligned}$$

Από τις τρεις αυτές εκτιμήσεις της σταθεράς d , μπορούμε να κρατήσουμε την μέση τιμή τους \bar{d} ή εκείνη που αντιστοιχεί στην πιο ευκρινή τάξη περίθλασης που είναι η τελευταία. Στρογγυλοποιώντας στα τέσσερα σημαντικά παίρνουμε $d = 2000\text{nm}$.

B. Για να βρούμε πόσες γραμμές (σχισμές) έχει το φράγμα ανά mm θα διαιρέσουμε την απόσταση $1\text{mm} = 10^6\text{nm}$ με την απόσταση μεταξύ δύο γειτονικών γραμμών που είναι η σταθερά d του φράγματος,

$$\begin{aligned}\text{γραμμές/mm} &= \frac{10^6}{d} \\&= \frac{10^6}{2000} \\&= 500\end{aligned}$$

4. Ένας φοιτητής έχει στην διάθεση του ένα οπτικό φράγμα με 500 γραμμές/mm και δύο Laser, ένα στην περιοχή του κόκκινου με μήκος κύματος $\lambda_\kappa = 632,9\text{nm}$ και ένα στην περιοχή του μπλε με μήκος κύματος $\lambda_\mu = 420,0\text{nm}$.

A. Να υπολογίσετε την σταθερά d του φράγματος.

B. Να βρείτε τις γωνίες για τα μέγιστα συμβολής για όλες τις τάξεις περίθλασης και για τα δύο Laser.

Απάντηση.

A. Η σταθερά d του φράγματος θα είναι,

$$\begin{aligned}d &= \frac{10^6}{500} \\&= 2000\text{nm}\end{aligned}$$

B. Για το κόκκινο Laser θα έχουμε και για $m = 1$ θα έχουμε

$$\begin{aligned}
 d \cdot \eta \mu \theta_1 &= 1 \cdot \lambda_{\kappa} \Rightarrow \\
 \eta \mu \theta_1 &= \frac{\lambda_{\kappa}}{d} \Rightarrow \\
 \eta \mu \theta_1 &= \frac{632,9}{2000} \Rightarrow \\
 \eta \mu \theta_1 &= 0,31645 \Rightarrow \\
 \theta_1 &= \sin^{-1} 0,31645 \\
 &= 18,45^\circ
 \end{aligned}$$

Για $m = 2$,

$$\begin{aligned}
 \theta_2 &= \sin^{-1} \frac{2 \cdot 632,9}{2000} \\
 &= 39,26^\circ
 \end{aligned}$$

και για $m = 3$,

$$\begin{aligned}
 \theta_3 &= \sin^{-1} \frac{3 \cdot 632,9}{2000} \\
 &= 71,68^\circ
 \end{aligned}$$

Δεν έχουμε μέγιστο για τάξη περίθλασης μεγαλύτερη του 3.

Για το μπλε Laser και για $m = 1$ έχουμε,

$$\begin{aligned}
 \theta_1 &= \sin^{-1} \frac{1 \cdot 420}{2000} \\
 &= 12,12^\circ
 \end{aligned}$$

Για $m = 2$,

$$\begin{aligned}
 \theta_2 &= \sin^{-1} \frac{2 \cdot 420}{2000} \\
 &= 24,83^\circ
 \end{aligned}$$

Για $m = 3$,

$$\begin{aligned}
 \theta_3 &= \sin^{-1} \frac{3 \cdot 420}{2000} \\
 &= 39,05^\circ
 \end{aligned}$$

Και τέλος για $m = 4$,

$$\begin{aligned}
 \theta_4 &= \sin^{-1} \frac{4 \cdot 420}{2000} \\
 &= 57,14^\circ
 \end{aligned}$$

Για $m = 5$ έχουμε

$$\frac{5 \cdot \lambda}{d} > 1$$

και συνεπώς δεν έχουμε μέγιστο πέμπτης τάξης.